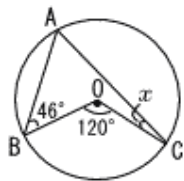







印刷して、紙の上でやってネ!

1	(1)	😊 $-5+8$	6	<p>図のように、円Oの周上に3点A,B,Cがある。 $\angle ABO=46^\circ, \angle BOC=120^\circ$のとき、$\angle x$の大きさを求めなさい。</p> 
	(2)	$-3(x+2y)+4(3x+y)$		
	(3)	$(a+2)^2-a(a+3)$		
2	<p>次の文中の(ア),(イ)にあてはまる数をそれぞれかきなさい。</p> <div style="border: 1px solid black; padding: 5px; display: inline-block;"> <p>多項式 $3x^2-4x+5$ は、(ア)次式であり、xの係数は(イ)である。</p> </div>		7	<p>図の投影図で表される立体を、次のア～エから1つ選び、その記号をかきなさい。</p> <div style="display: flex; align-items: center;"> <div style="writing-mode: vertical-rl; font-size: small; margin-right: 5px;">立 面 図</div>  </div> <div style="display: flex; align-items: center; margin-top: 5px;"> <div style="writing-mode: vertical-rl; font-size: small; margin-right: 5px;">平 面 図</div>  </div> <p>ア 直方体 イ 三角柱 ウ 四角錐 エ 三角錐</p>
	3	<p>次のア～オの数の中から、その絶対値が最も大きい数と最も小さい数をそれぞれ選び、その記号をかきなさい。</p> <p>ア -1 イ $\frac{2}{3}$ ウ 0 エ -1.3 オ 0.7</p>		
4	<p>12の平方根を求めなさい。</p>		8	<p>図のように、袋の中に、1,2,3,4,5の数が1つずつかかれた同じ大きさの玉が5個入っている。この袋の中から同時に2個の玉を取り出す。</p>  <p>このとき、取り出した玉にかかれた数の積が奇数となる確率を求めなさい。</p> <p>ただし、どの玉の取り出し方も、同様に確からしいものとする。</p>
5	<p>次の連立方程式を解きなさい。</p> $\begin{cases} x+2y=11 \\ 3x-4y=3 \end{cases}$			

