

1

次の(1)～(5)の計算をなさい。(6)～(10)は指示に従って答えなさい。

(1) $-1 + 7$

(2) $(-8) \times (-2) - (-4)$

(3) $(-3a - 5) - (5 - 3a)$

(4) $4a^2b \div \frac{3}{2}b$

(5) $(\sqrt{3} + 2)(\sqrt{3} - 5)$

(6) ある正の整数から3をひいて、これを2乗すると64になります。この正の整数を求めなさい。ただし、解答欄の書き出しに続けて、答えを求めるまでの過程も書きなさい。

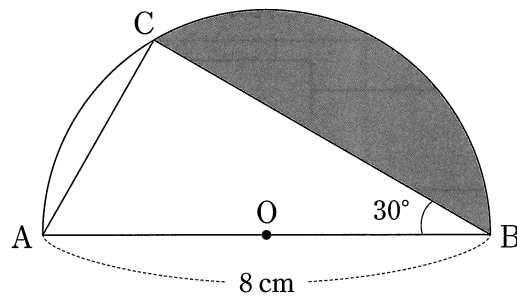
(7) y は x に反比例し、 $x = -3$ のとき $y = 1$ です。このとき、 y を x の式で表しなさい。

(8) ことがらAの起こる確率を p とするとき、ことがらAの起こらない確率を p を使って表しなさい。

(9) 次のことがらが正しいかどうかを調べて、正しい場合には解答欄に「正しい」と書き、正しくない場合には反例を一つ書きなさい。

a が3の倍数ならば、 a は6の倍数である。

(10) 図のように、線分ABを直径とする半円Oの弧AB上に点Cがあります。3点A、B、Cを結んでできる $\triangle ABC$ について、 $AB = 8\text{ cm}$ 、 $\angle ABC = 30^\circ$ のとき、弧BCと線分BCで囲まれた色のついた部分の面積を求めなさい。



2

太郎さんと花子さんは、中学生の体力について調べています。〈会話〉を読んで、(1)～(3)に答えなさい。

〈会話〉

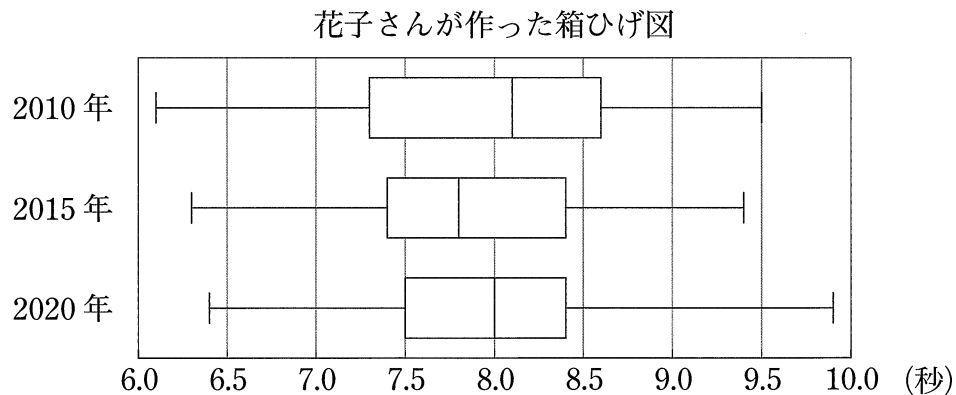
太郎：私たちの中学校で実施している2年生の体力テストの結果を、5年ごとに比較してみよう。

花子：(あ) 2010年、2015年、2020年の50m走のデータをもとに、箱ひげ図を作ってみたよ。

太郎：箱ひげ図の箱で示された区間には、すべてのデータのうち、真ん中に集まる約 (い) %のデータが含まれていたよね。箱ひげ図は、複数のデータの分布を比較しやすいね。

花子：(う) 2010年、2015年、2020年の50m走のデータをもとに、ヒストグラムも作ってみたよ。

太郎：箱ひげ図とヒストグラムを並べると、データの分布をより詳しく比較できるね。次は、反復横とびのデータを比較してみようよ。



(1) 下線部(あ)について、花子さんが作った箱ひげ図から読み取れることとして、次の①、②のことがらは、それぞれ正しいといえますか。【選択肢】のア～ウの中から最も適当なものをそれぞれ一つ答えなさい。

- ① 2015年の第3四分位数は、2010年の第3四分位数よりも小さい。
- ② 2020年の平均値は8.0秒である。

【選択肢】

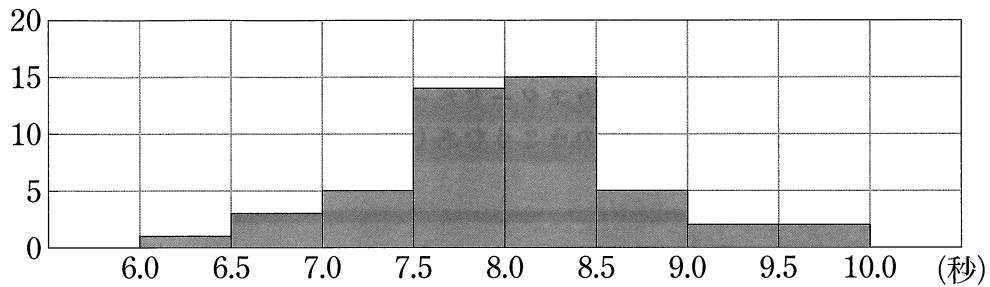
- ア 正しい イ 正しくない
- ウ 花子さんが作った箱ひげ図からはわからない

(2) (い) に当てはまる数として最も適当なのは、ア～エのうちではどれですか。一つ答えなさい。

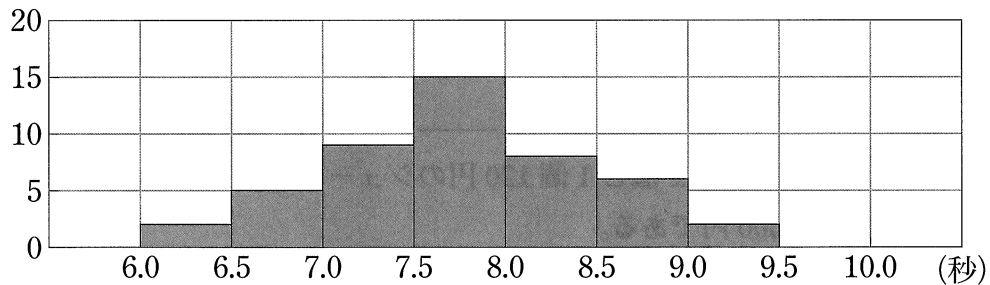
ア 25 イ 50 ウ 75 エ 100

(3) 下線部(う)について、次の3つのヒストグラムは、花子さんが作った箱ひげ図の2010年、2015年、2020年のいずれかに対応しています。各年の箱ひげ図に対応するヒストグラムを、ア～ウの中からそれぞれ一つ答えなさい。

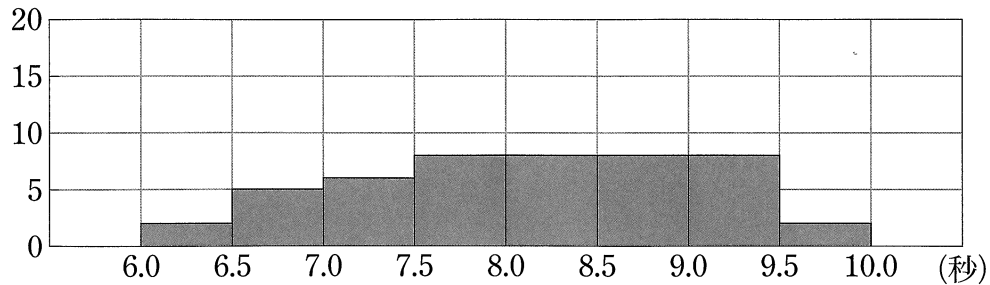
ア (人)



イ (人)




ウ (人)



※ヒストグラムについて、例えば、6.0～6.5の区間は、6.0秒以上6.5秒未満の階級を表す。

3

太郎さんは、ある洋菓子店で1500円分の洋菓子を買おうと考えています。
(1), (2)に答えなさい。ただし、消費税は考えないものとします。



The advertisement is enclosed in a rectangular border. At the top left, the word '手作り' (handmade) is written inside a speech bubble. To its right, the word 'プリン' (pudding) is written in a large, bold font. Below this, the text 'なめらかなくちどけ' (smooth and easy to cut) and 'ぜいたくなおいしさ' (luxurious taste) is written in a smaller font, followed by '1個 180円' (1 piece 180 yen). To the right of this text is an illustration of a pudding cup with a cherry on top. Below the pudding, there is an illustration of a cream puff. To its right, the word 'シュークリーム' (cream puff) is written in a large, bold font. Below this, the text 'カスタードたっぷり' (plenty of custard) and 'のうこうなあじわい' (pleasant taste) is written in a smaller font, followed by '1個 120円' (1 piece 120 yen).

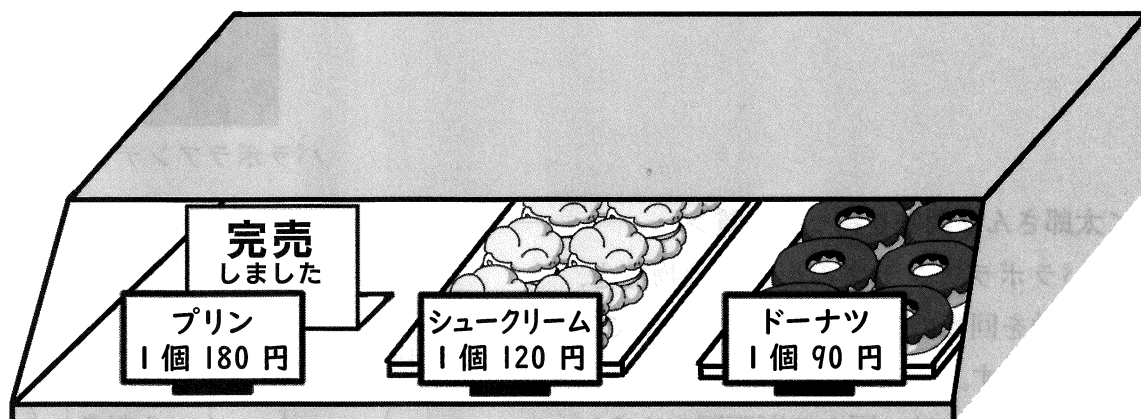
(1) 洋菓子店では、1500円すべてを使い切ると、1個180円のプリンと1個120円のシュークリームを合わせて9個買うことができます。①, ②に答えなさい。

① 次の数量の間の関係を等式で表しなさい。

1個180円のプリンを x 個と1個120円のシュークリームを y 個買うときの代金の合計が1500円である。

② プリンとシュークリームをそれぞれ何個買うことができるかを求めなさい。

- (2) 太郎さんが洋菓子店に行くと、プリンが売り切れていたため、代わりに1個120円のシュークリームと1個90円のドーナツを、1500円すべてを使い切って買うことにしました。①, ②に答えなさい。



- ① 太郎さんは、シュークリームとドーナツをそれぞれ何個か買い、代金の合計が1500円になる買い方について、次のように考えました。□には同じ数が入ります。□に適切な数を書きなさい。

<太郎さんの考え>

まず、次の数量の間の関係を等式で表します。

1個120円のシュークリームを a 個と1個90円のドーナツを b 個買うときの代金の合計が1500円である。


次に、この等式を満たす a, b がどちらも0以上の整数である場合を考えます。そのような a, b の組は、全部で□組あります。

よって、シュークリームとドーナツをそれぞれ何個か買い、代金の合計が1500円になるような買い方は、全部で□通りあります。

- ② シュークリームとドーナツがどちらも8個ずつ残っているとき、それぞれ何個買うことができるかを求めなさい。

4

太郎さんは、パラボラアンテナに放物線の性質が利用されていることを知り、放物線について考えています。



パラボラアンテナの写真

＜太郎さんが興味を持った性質＞

パラボラアンテナの形は、放物線を、その軸を回転の軸として回転させてできる曲面です。

この曲面には、図1の断面図のように軸に平行に入ってきた光や電波を、ある1点に集めるといふ性質があります。

この点のことを焦点といいます。

また、光や電波がこの曲面で反射するとき、

$$\text{入射角} = \text{反射角}$$

となります。

このとき、図2のように、点Pや点Qを同時に通過した光や電波は、曲面上の点Aや点Bで反射し、同時に焦点Fに到達します。光や電波の進む速さは一定なので、

$$PA + AF = QB + BF$$

が成り立ちます。このことは、光や電波が、図2の破線上のどの位置を通過しても成り立ちます。

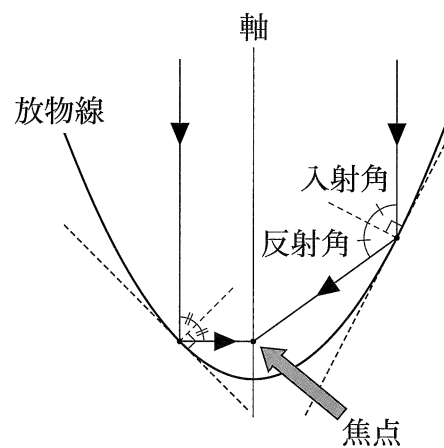


図1

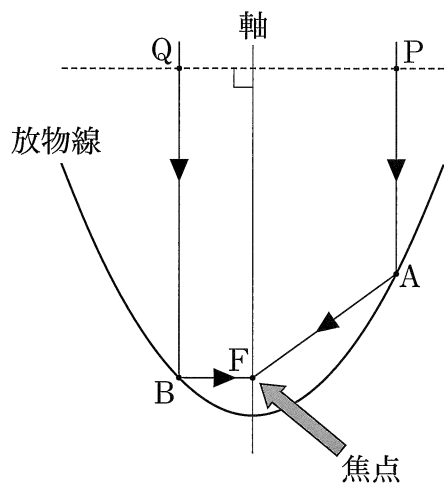


図2

図3は、<太郎さんが興味を持った性質>を座標平面上に表したものです。図3と【図3の説明】をもとに、(1)～(3)に答えなさい。

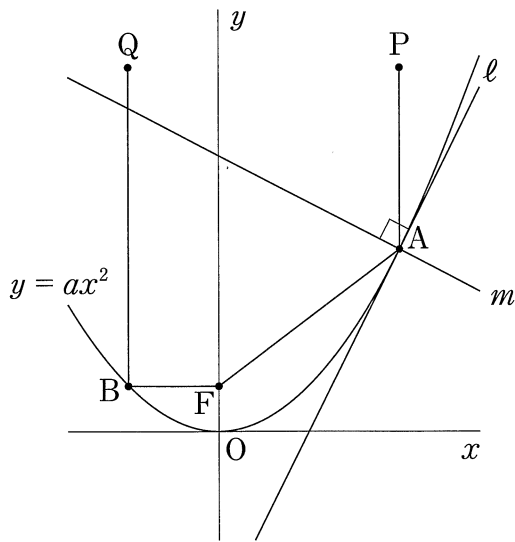


図3

【図3の説明】

- ・ 2点A, Bは関数 $y = ax^2$ (a は定数) のグラフ上の点
- ・ 点Aの座標は (4, 4)
- ・ 点Bの x 座標は -2
- ・ 点Fの座標は (0, 1)
- ・ 点Pの座標は (4, 8)
- ・ 点Qの座標は (-2, 8)
- ・ 直線 m は $\angle PAF$ の二等分線
- ・ 直線 l は点Aを通り、直線 m と垂直に交わる直線
- ・ 点Oは原点

(1) 関数 $y = ax^2$ について、①, ②に答えなさい。

① a の値を求めなさい。

② x の変域が $-2 \leq x \leq 4$ のとき、 y の変域を求めなさい。

(2) 次の には8より小さい同じ数が入ります。 に適当な数を書きなさい。


$PA + AF$ の値は、点Pと点(4,)の間の距離と等しい。

$QB + BF$ の値は、点Qと点(-2,)の間の距離と等しい。

(3) 直線 l の方程式を求めなさい。

5

太郎さんは、正五角柱の形をしたケーキを4等分したいと考えています。〈太郎さんの考え〉を読み、(1)～(3)に答えなさい。



〈太郎さんの考え〉

図1の正五角形 $ABCDE$ は、ケーキを真上から見たときの模式図です。

ケーキを4等分するために、正五角形 $ABCDE$ の面積を4等分する線分を考えます。

はじめに、点 A から辺 CD に垂線 AF をひくと、線分 AF は正五角形 $ABCDE$ の面積を2等分します。

次に、点 B を通り、四角形 $BCPF$ の面積を2等分する直線を考えます。点 C を通り、直線 BF に平行な直線と、直線 AF との交点を P とします。このとき、 $\triangle BCF$ の面積と□(あ)の面積が等しいから、四角形 $ABCF$ の面積は□(い)の面積と等しくなります。したがって、□(う)を点 Q とすると、線分 BQ は四角形 $ABCF$ の面積を2等分します。

同じように考えて、線分 EQ は四角形 $AEDF$ の面積を2等分します。

以上のことから、線分 AF 、線分 BQ 、線分 EQ により、正五角形 $ABCDE$ の面積は4等分されます。

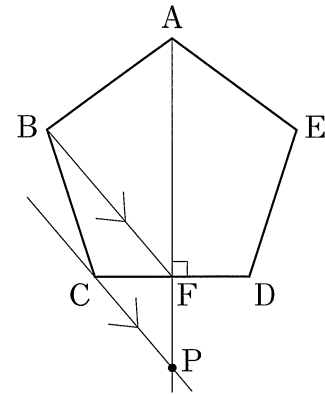


図1

- (1) □(あ)、□(い)に当てはまるものとして最も適当なのは、ア～カのうちではどれですか。それぞれ一つ答えなさい。

ア $\triangle CPF$ イ $\triangle BPF$ ウ $\triangle BCP$
 エ $\triangle ACP$ オ $\triangle ABP$ カ 四角形 $BCPF$

- (2) □(う)に当てはまるものとして最も適当なのは、ア～エのうちではどれですか。一つ答えなさい。

ア 直線 BE と直線 AF との交点 イ 線分 AF の中点
 ウ 線分 AP の中点 エ 直線 BD と直線 AF との交点

(3) 太郎さんは、下線部について、点Cを通り、直線BFに平行な直線を<作図の手順>に従って作図し、作図した直線と直線BFは平行であることを次のように説明しました。

①, ②に答えなさい。

<作図の手順>

- 手順1) 点Cを中心として、線分BFの長さと等しい半径の円Mをかく。
 手順2) 点Fを中心として、線分BCの長さと等しい半径の円Nをかく。
 手順3) 図2のように、2つの円の交点の1つをGとし、直線CGをひく。

<作図した直線と直線BFは平行であることの説明>

図2において、

$$\triangle BCF \equiv \triangle GFC$$

となり、

対応する角は等しいから、

$$\angle BFC = \angle GCF$$

よって、が等しいので、

$$BF \parallel CG$$

となります。

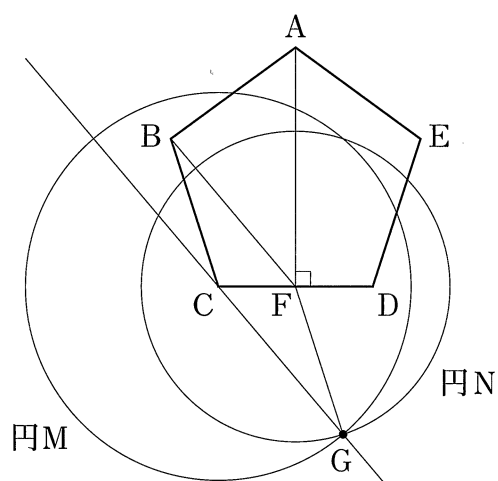


図2

① $\triangle BCF \equiv \triangle GFC$ を証明しなさい。

② に当てはまるものとして最も適当なのは、ア～エのうちではどれですか。一つ答えなさい。

ア 対頂角


イ 同位角

ウ 錯角

エ 円周角

受検 番号	(算用数字)	志願校	
----------	--------	-----	--

解答用紙



- 注意** 1 答えに $\sqrt{\quad}$ が含まれるときは、 $\sqrt{\quad}$ をつけたままで答えなさい。
 また、 $\sqrt{\quad}$ の中の数は、できるだけ小さい自然数にきなさい。
 2 円周率は π を用いなさい。

1	(1)	
	(2)	
	(3)	
	(4)	
	(5)	
	(6)	ある正の整数を x とすると、
	(7)	
	(8)	
	(9)	
	(10)	(cm^2)

2	(1)①	
	(1)②	
	(2)	
	(3)	2010年 2015年 2020年

3	(1)①	
	(1)②	プリン (個) シュークリーム (個)
	(2)①	
	(2)②	シュークリーム (個) ドーナツ (個)

4	(1)①	$a =$
	(1)②	
	(2)	
	(3)	

5	(1)あ	
	(1)か	
	(2)	
	(3)①	
	(3)②	

数 学 正 答 例

1		(1)	6
		(2)	20
		(3)	-10
		(4)	$\frac{8}{3}a^2$
		(5)	$-7 - 3\sqrt{3}$
		(6)	<p>ある正の整数を x とすると、 ある正の整数から 3 をひいた数は $x-3$ と表される。 これを 2 乗すると 64 であるから、 $(x-3)^2 = 64$ $x-3 = \pm 8$ $x-3 = 8$ のとき $x = 11$ $x-3 = -8$ のとき $x = -5$ よって、$x = 11, -5$ x は正の整数だから、$x = -5$ は問題にあわない。 $x = 11$ は問題にあっている。</p> <p style="text-align: right;">答 11</p>
		(7)	$y = -\frac{3}{x}$
		(8)	$1-p$
		(9)	$a = 3$
		(10)	$\frac{16}{3}\pi - 4\sqrt{3}$ (cm ²)

2		(1)①	ア						
		(1)②	ウ						
		(2)	イ						
		(3)	<table style="width: 100%; border-collapse: collapse;"> <tr> <td style="width: 10%; text-align: center;">2010年</td> <td style="width: 10%; text-align: center;">ウ</td> </tr> <tr> <td style="text-align: center;">2015年</td> <td style="text-align: center;">イ</td> </tr> <tr> <td style="text-align: center;">2020年</td> <td style="text-align: center;">ア</td> </tr> </table>	2010年	ウ	2015年	イ	2020年	ア
2010年	ウ								
2015年	イ								
2020年	ア								

3		(1)①	$180x + 120y = 1500$		
		(1)②	プリン	7	(個)
			シュークリーム	2	(個)
		(2)①	4		
		(2)②	シュークリーム	8	(個)
			ドーナツ	6	(個)

4		(1)①	$a = \frac{1}{4}$
		(1)②	$0 \leq y \leq 4$
		(2)	-1
		(3)	$y = 2x - 4$

5		(1)あ	イ
		(1)い	オ
		(2)	ウ
		(3)①	<p>$\triangle BCF$ と $\triangle GFC$ において、 円 M の半径は線分 BF の長さと同じから、 $BF = GC$ …… ① 円 N の半径は線分 BC の長さと同じから、 $BC = GF$ …… ② また、共通な辺だから、 $CF = FC$ …… ③ ①, ②, ③ から、 3 組の辺がそれぞれ等しいので、 $\triangle BCF \equiv \triangle GFC$</p>
		(3)②	ウ