

**1**

次の①～⑤の計算をなさい。⑥～⑩は指示に従って答えなさい。

①  $4 + (-8)$

②  $(-18) \div (-3)$

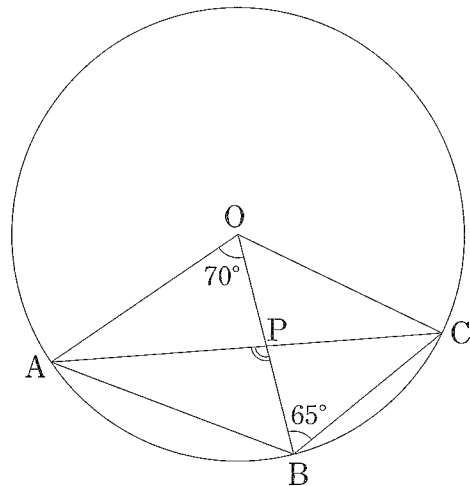
③  $4(2a - b) - (-3a + b)$

④  $6ab \times \left(-\frac{3}{2}a\right)$

⑤  $(1 - \sqrt{5})^2$

⑥ 方程式  $x^2 - x - 3 = 0$  を解きなさい。

⑦ 右の図のように、円Oの円周上に3点A, B, Cがある。四角形OABCについて、対角線の交点をPとする。 $\angle AOB = 70^\circ$ ,  $\angle OBC = 65^\circ$ のとき、 $\angle APB$ の大きさを求めなさい。



⑧ 3枚の硬貨を同時に投げるとき、少なくとも1枚は表となる確率を求めなさい。  
ただし、表と裏の出方は同様に確からしいものとする。

- ⑨ 次の図1、図2のような、底面の半径が  $r$  cm で高さが  $2r$  cm の円柱（図1）と、半径が  $r$  cm の球（図2）がある。□ に当てはまる適当な数は、ア～エのうちではどれですか。一つ答えなさい。

図1の円柱の体積は、図2の球の体積の □ 倍である。

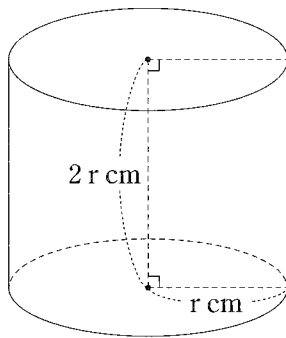


図1

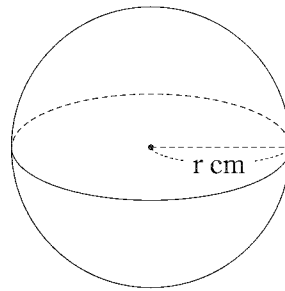


図2

- ア  $\frac{3}{2}$       イ  $\frac{4}{3}$       ウ  $\frac{5}{4}$       エ  $\frac{6}{5}$

- ⑩ 右の度数分布表は、ある中学校のバスケットボール部が行った15試合の練習試合について、1試合ごとの得点の記録を整理したものである。

(1)、(2)を求めなさい。

- (1) 80点以上100点未満の階級の相対度数  
 (2) 度数分布表からわかる得点の平均値

得点(点)	度数(試合)
0 <sup>以上</sup> ~ 20 <sup>未満</sup>	0
20 ~ 40	1
40 ~ 60	6
60 ~ 80	4
80 ~ 100	3
100 ~ 120	1
計	15

2


大輝さんと桃子さんは、町内会の夏祭りでボールすくいを計画している。2人は、町内会の人から模様入りと単色の2種類のボールが合計500個入っている袋を1つ受け取った。その人に聞いてみたところ、ボール500個の消費税込みの価格は2,000円であることがわかった。2人は、袋の中に入っている模様入りボールと単色ボールの個数を調べる方法について、次のように考えた。①、②に答えなさい。ただし、ボールの大きさは、すべて同じものとする。

【大輝さんの考え】



標本調査を行えば、それぞれのおよその個数がわかる。

【桃子さんの考え】



それぞれのボールの1個あたりの価格がわかれば、連立方程式を利用して、それぞれの正確な個数を求めることができる。


① 大輝さんがこの袋の中から25個のボールを無作為に抽出したところ、抽出したボールのうち模様入りボールは6個だった。はじめに袋の中に入っていた模様入りボールのおよその個数として最も適当なのは、ア～エのうちではどれですか。一つ答えなさい。

- ア およそ100個
- イ およそ120個
- ウ およそ140個
- エ およそ160個

② 桃子さんが調べたところ、消費税込みの価格で模様入りボールは1個7円、単色ボールは1個3円であることがわかった。(1)、(2)に答えなさい。

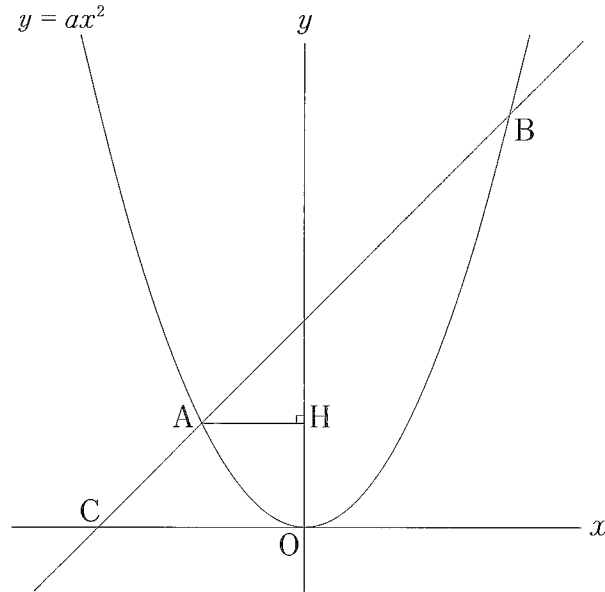
(1) 模様入りボールを  $x$  個、単色ボールを  $y$  個として、連立方程式をつくりなさい。

(2) ボール 500 個のうち、模様入りボールと単色ボールはそれぞれ何個ずつあるかを求めなさい。



3

次の図のように、 $x$ の値が $-2$ から $4$ まで増加するときの変化の割合が $1$ である関数 $y = ax^2$ について、グラフ上に $2$ 点 $A$ 、 $B$ があり、点 $A$ の $x$ 座標は $-2$ 、点 $B$ の $x$ 座標は $4$ である。また、直線 $AB$ と $x$ 軸との交点を $C$ とする。①、②は指示に従って答えなさい。③、④は  に適当な数を書きなさい。



① 変化の割合が正になるのは、ア～エのうちではどれですか。当てはまるものをすべて答えなさい。

- ア 関数  $y = 2x$  で、 $x$ の値が $0$ から $4$ まで増加するとき。
- イ 関数  $y = -3x + 4$  で、 $x$ の値が $1$ から $3$ まで増加するとき。
- ウ 関数  $y = \frac{6}{x}$  で、 $x$ の値が $3$ から $6$ まで増加するとき。
- エ 関数  $y = -x^2$  で、 $x$ の値が $-3$ から $1$ まで増加するとき。


- ②  $a$ の値は、次のように求めることができる。 $\square(1)$ には適当な式を書きなさい。  
また、 $\square(2)$ には $a$ の値を求めなさい。ただし、 $\square(2)$ は答えを求めるまでの過程も  
書きなさい。

関数  $y = ax^2$  について、  
 $x = -2$  のとき、 $y = 4a$  である。  
また、 $x = 4$  のとき、 $y = \square(1)$  である。  
よって、変化の割合について、  
 $\square(2)$

- ③ 点Cの座標は ( $\square$ , 0) である。
- ④ 点Aから  $y$  軸にひいた垂線と  $y$  軸との交点をHとする。台形OHACを、直線OHを  
回転の軸として1回転させてできる立体の体積は  $\square(1)$   $\text{cm}^3$  であり、表面積は  
 $\square(2)$   $\text{cm}^2$  である。ただし、原点Oから点(1,0)までの距離、原点Oから点(0,1)  
までの距離をそれぞれ1 cm とする。

4

太郎さんは、道路側が斜めに切り取られたような建物を見て、興味をもち調べると、その建物は、周辺の日当たりなどを確保するためのきまりにもとづいて建てられていることがわかった。そのきまりについて、次のように、真横から見た模式図をかいてまとめた。①～④に答えなさい。



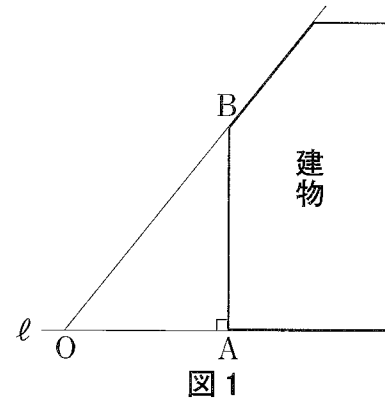
### <太郎さんのまとめ1>

直線  $\ell$  を平らな地面とみなす。また、2点  $O$ 、 $A$  は直線  $\ell$  上の点で、線分  $OA$  を道路とし、線分  $OA$  の長さを道路の幅とみなす。

#### きまり I

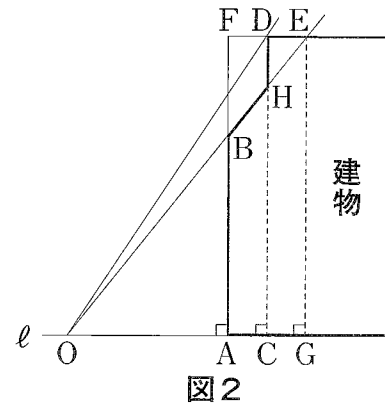
建物は、道路側に（直線  $AB$  から）はみ出さないようにする。

あわせて建物は、**図1**で、 $OA : AB = 4 : 5$  となる直線  $OB$  を越えてはいけない。



#### きまり II

建物は、きまり I にもとづいて建てなければならない。ただし、道路の幅が 12 m 以上 のときは、**図2**で、直線  $OB$  を越えてもよいが、 $OC = 1.25 \times OA$ 、 $OC : CD = 2 : 3$  となる直線  $OD$  を越えてはいけない。これは、直線  $CD$  より道路から遠い部分に適用される。



#### 【図1、2の説明】

- ・色 (  ) のついた図形を建物とみなし、点  $B$  は**図1**と**図2**の、点  $D$ 、 $E$ 、 $H$  は**図2**の建物とみなす図形の周上の点
- ・点  $C$ 、 $G$  は、半直線  $OA$  上の点
- ・ $\ell \perp AB$ 、 $\ell \perp CD$ 、 $\ell \perp GE$
- ・点  $E$  は、点  $D$  を通り、直線  $\ell$  に平行な直線と直線  $OB$  の交点
- ・点  $F$  は、直線  $AB$  と直線  $DE$  の交点
- ・点  $H$  は、直線  $OE$  と直線  $CD$  の交点

① 点  $A$  を通り、直線  $\ell$  に垂直な直線を定規とコンパスを使って作図しなさい。作図に使った線は残しておきなさい。

② **図1**において、 $OA = 12 \text{ m}$  のとき、線分  $AB$  の長さを求めなさい。

- ③ 太郎さんは、道路の幅が12mできまりⅡが適用されたとき、図2をもとに図3を作成し、点C、Dの特徴について考えた。□(1)□、□(2)□には適当な数または式を書きなさい。また、□(3)□には点Eのx座標を求める過程の続きを書き、<太郎さんのまとめ2>を完成させなさい。

<太郎さんのまとめ2>

図3のように、点Oを原点に、直線 $l$ をx軸にしたグラフを考える。

直線OBの式を $y = \frac{5}{4}x$ とすると、

直線ODの式は $y = \square(1)\square$ である。

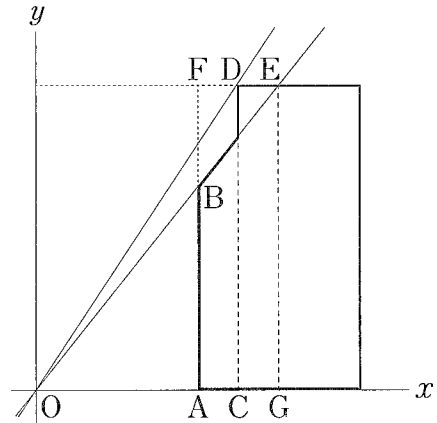
$OA = 12$ のとき、 $OC = 1.25 \times OA = 15$ となるので、点Aのx座標を12とすると、点C、Dのx座標はともに15である。

このとき、点Eのx座標を求める。

点D、Eのy座標はともに□(2)□である。また、

□(3)□

である。よって、線分ACと線分CGの長さが等しいので、 $AC : CG = 1 : 1$ である。つまり、点Cは線分AGの中点であり、点Dは線分FEの中点である。



- ④ 太郎さんは、③の図3をもとに図4を作成し、建物Xと道路をはさんで向かいあう建物Yの壁面にできる建物Xの影について考えた。□に適当な数を書き、<太郎さんのまとめ3>を完成させなさい。

<太郎さんのまとめ3>

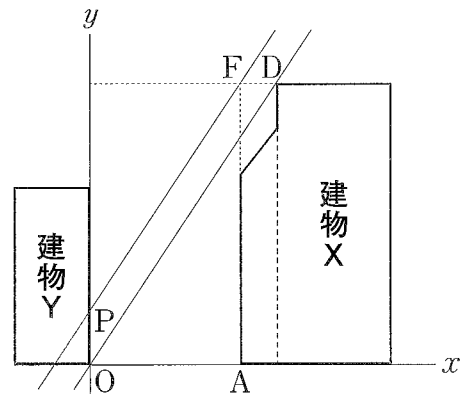
図4について、点Pは、点Fを通り直線ODに平行な直線とy軸との交点とする。

道路の幅(線分OAの長さ)が12mのとき、きまりⅠ、Ⅱの制限いっぱい建てられた建物Xの影の部分が、ちょうど道路の幅と同じになるときを考える。南中高度で調べると、春分・秋分の日のことだとわかった。太陽の光線は平行に進むと考えることができるので、直線ODと直線PFを太陽の光線とみなすことにする。

このとき、線分OPはきまりⅠが適用されていない場合に、建物Yの壁面にできる影の部分とみなすことができる。

よって、きまりⅠが適用されていない場合、線分OPの長さが□mであることより、建物Yの壁面にできる影の部分は、この高さまでであるとわかる。

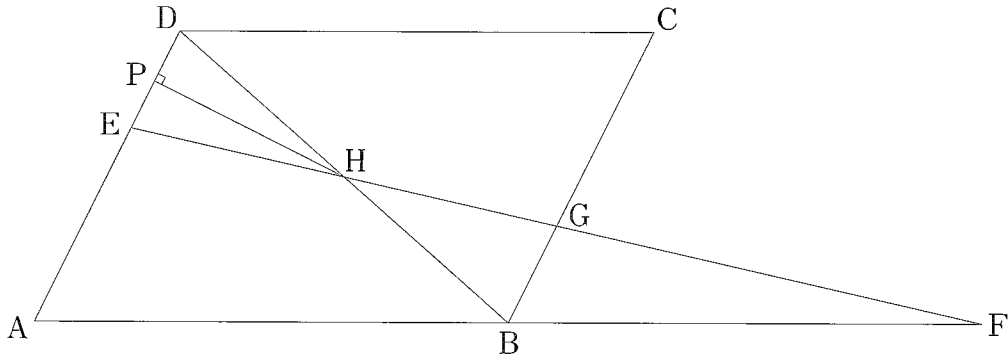
きまりによって、建物Yの日当たりがより確保されていることがわかった。





5

次の図のように、 $\angle DAB$ が鋭角の平行四辺形 $ABCD$ について、線分 $AD$ を $2:1$ に分ける点を $E$ とする。線分 $AB$ の延長線上に、点 $A$ とは異なる点 $F$ を $AB = BF$ となるようにとり、点 $B$ と点 $F$ 、点 $E$ と点 $F$ をそれぞれ結ぶ。線分 $EF$ と線分 $BC$ の交点を $G$ 、線分 $EF$ と平行四辺形 $ABCD$ の対角線 $BD$ の交点を $H$ とする。また、点 $H$ から線分 $AD$ にひいた垂線と線分 $AD$ との交点を $P$ とする。  
 ①、②は指示に従って答えなさい。③は  に適当な数を書きなさい。



① 四角形が平行四辺形にならない場合があるのは、ア～エのうちではどれですか。一つ答えなさい。

- ア 1組の向かいあう辺が、長さが等しくて平行であるとき。
- イ 2本の対角線が、それぞれの中点で交わる時。
- ウ 2本の対角線が、長さが等しくて垂直に交わる時。
- エ 2組の向かいあう角が、それぞれ等しいとき。

- ②  $BG = ED$ は、次のように導くことができる。には、 $\triangle AFE \sim \triangle BFG$ の証明の過程を書きなさい。また、には適当な数を書きなさい。

$\triangle AFE$ と $\triangle BFG$ において、

$\triangle AFE \sim \triangle BFG$ である。

よって、この結果より、 $BG = \text{} AE$  となるので、 $BG = ED$  である。

- ③  $AD = 15 \text{ cm}$ ,  $DH = EH$ ,  $\triangle BFG$ の面積が  $20\sqrt{6} \text{ cm}^2$  のとき、線分  $HP$  の長さは   $\text{cm}$  であり、線分  $AB$  の長さは   $\text{cm}$  である。

# 数学正答例

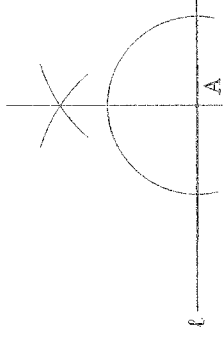
1

①	-4
②	6
③	$11a-5b$
④	$-9a^2b$
⑤	$6-2\sqrt{5}$
⑥	$x = \frac{1 \pm \sqrt{13}}{2}$
⑦	100 (°)
⑧	$\frac{7}{8}$
⑨	ア
⑩(1)	0.20
⑩(2)	66 (点)

3

①	ア	エ
②(1)		$16a$
②(2)	$\frac{16a-4a}{4-(-2)} = 1$ が成り立つ。 $\frac{12a}{6} = 1$ $2a = 1$ よって、 $a = \frac{1}{2}$ である。	
③	-4	
④(1)	$\frac{56}{3}\pi$	( $\text{cm}^2$ )
④(2)	$(20+12\sqrt{2})\pi$	( $\text{cm}^2$ )

4

①	
②	15 (m)
③(1)	$\frac{5}{2}x$
③(2)	$\frac{45}{2}$
③(3)	点Eは、直線 $y = \frac{5}{4}x$ 上の点であることから、 $\frac{45}{2} = \frac{5}{4}x$ が成り立つ。 よって、 $x = 18$ であるから、点Eのx座標は18
④	$\frac{9}{2}$ (m)

2

①	イ
②(1)	$x+y=500$ $7x+3y=2000$
②(2)	模様入りボール 125 個 単色ボール 375 個

5

①	ウ
②(1)	AE//BG から、平行線の同位角は等しいので、 $\angle EAF = \angle GBF \dots (i)$ $\angle F$ は共通な角なので、 $\angle AFE = \angle BFG \dots (ii)$ (i), (ii) から、2組の角がそれぞれ等しいので
②(2)	$\frac{1}{2}$
③(1)	$4\sqrt{6}$ (cm)
③(2)	22 (cm)