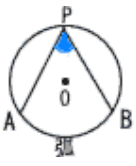


□ 円周角

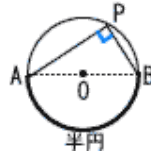


□ 半円の円周角

★ 半円に対する
円周角は 90°

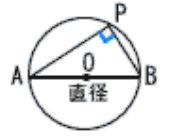
$$\angle APB(\text{円周角}) = 90^\circ$$

□ 直径の円周角



★ 直径に対する
円周角は 90°

$$\angle APB(\text{円周角}) = 90^\circ$$



印刷して、紙の上でやってネ!

😊 $\angle x$ の大きさを求めなさい。

1		2	
$\angle x =$		$\angle x =$	
3		4	
$\angle x =$		$\angle x =$	
5		6	
$\angle x =$		$\angle x =$	
7		8	
$\angle x =$		$\angle x =$	
9		10	
$\angle x =$		$\angle x =$	