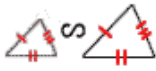
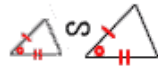


☐ 2つの三角形が相似になるための条件

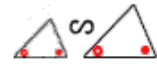
★ 3組の辺の比が  
すべて等しい



★ 2組の辺の比と,  
その間の角がそれぞれ等しい

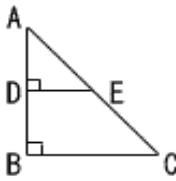
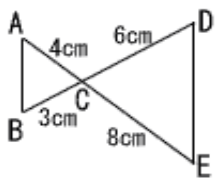
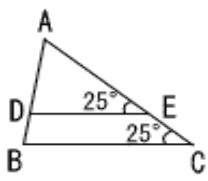
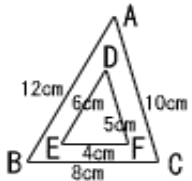

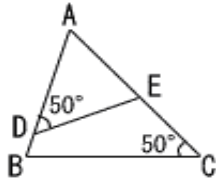
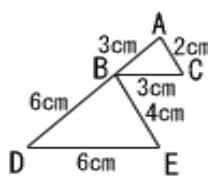
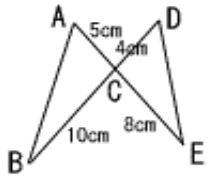


★ 2組の角がそれぞれ等しい



印刷して、紙の上でやってネ!

😊 △ABCと相似な三角形を見つけ、対応をつけて記号で表しなさい。  
また、そのときの相似条件もかきなさい。

1	<p>△ABC ∽</p>  <p>相似条件:</p>	2	<p>△ABC ∽</p>  <p>相似条件:</p>
3	<p>△ABC ∽</p>  <p>相似条件:</p>	4	<p>△ABC ∽</p>  <p>相似条件:</p>
5	<p>△ABC ∽</p>  <p>相似条件:</p>	6	<p>△ABC ∽</p>  <p>相似条件:</p>
7	<p>△ABC ∽</p>  <p>相似条件:</p>	8	<p>△ABC ∽</p>  <p>相似条件:</p>