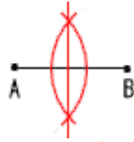


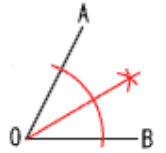
線分の垂直二等分線

端の点A,Bから弧をかく



角の二等分線

頂点Oから弧をかく



印刷して、紙の上でやってネ！

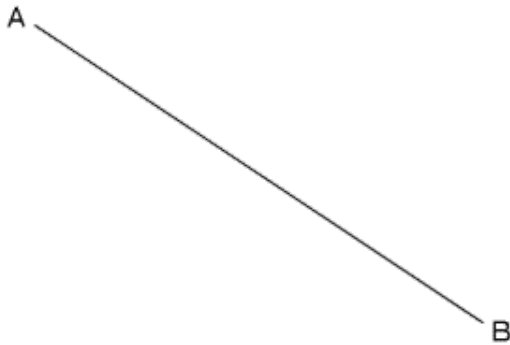


作図では、

- ① 定規とコンパスを使って、
- ② 使った線は消さずに残し、
- ③ 必要な記号も書き込んでおく

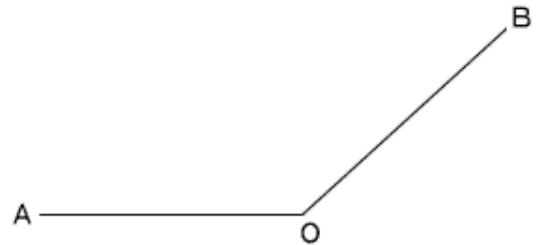
線分ABの中点Mを作図しなさい

1



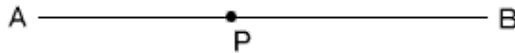
$\angle AOB$ の二等分線を作図しなさい。

2



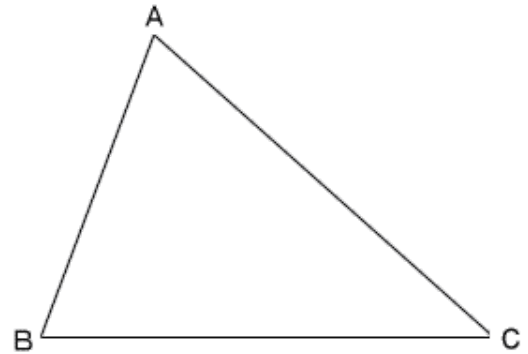
点Pを通る線分ABの垂線を作図しなさい。

3



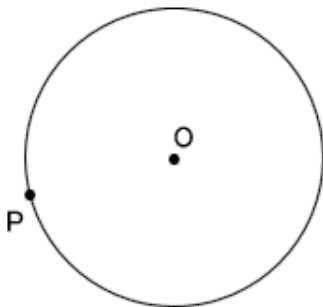
$\angle B$ の二等分線と、 $\angle C$ の二等分線の交点Pを作図しなさい。

4



円周上の点Pを通る接線を作図しなさい。

5



3点A,B,Cを通る円を作図しなさい。

6

